




Concorso pubblico per esami per n. 2 posti di Motoscafista – categoria
15 marzo 2023

1	Sono organi della Regione:	
	A.	Consiglio regionale, Presidente del Consiglio regionale, Presidente della Giunta regionale
	B.	Consiglio regionale, Presidente della Giunta regionale, Giunta regionale
	C.	Consiglio regionale, Presidente del Consiglio regionale, Giunta regionale
2	Il Presidente della Giunta regionale del Veneto:	
	A.	È anche Presidente del Consiglio regionale
	B.	È eletto dagli assessori regionali
	C.	È un organo della Regione
3	I consiglieri regionali:	
	A.	Sono eletti dai cittadini iscritti nelle liste elettorali dei comuni della Regione
	B.	Sono nominati direttamente dal Presidente della Giunta regionale
	C.	Sono nominati dalla Giunta regionale su proposta del Presidente del Consiglio regionale
4	Il decreto del Presidente della Giunta regionale:	
	A.	Non può modificare una legge regionale
	B.	Può modificare una legge regionale
	C.	Può modificare una legge regionale solo se proposta dalla Giunta regionale
5	Chi è responsabile dell'osservanza del Codice di comportamento dei dipendenti pubblici?	
	A.	La Direzione Organizzazione e Personale
	B.	La Dirigenza
	C.	La Direzione Sistema dei Controlli, Attività Ispettive e Sistar
6	Che cos'è il gonfalone?	
	A.	Una creatura mitologica, solitamente alata, che rappresenta la storia e le tradizioni della Regione
	B.	Particolare cerimonia di investitura del neo eletto Presidente della Regione
	C.	Un vessillo
7	La Giunta regionale:	
	A.	È l'organo esecutivo delle Regioni
	B.	Non è l'organo esecutivo delle Regioni
	C.	È l'organo monocratico della Regione



Concorso pubblico per esami per n. 2 posti di Motoscafista – categoria B3
15 marzo 2023

8	Lo Statuto della Regione del Veneto:	
	A.	È approvato dal Consiglio regionale con decreto del Presidente della Commissione consiliare competente per materia
	B.	È approvato dal Consiglio regionale con legge regionale
	C.	È approvato dalla Giunta regionale e sottoposto al visto del Presidente della Giunta regionale
9	La Regione del Veneto è organizzata in:	
	A.	Direzioni, UO e PO
	B.	Dipartimenti, Servizi, PO
	C.	Direzioni, Settori, Sezioni
10	Le Regioni:	
	A.	Sono enti pubblici economici con propri statuti ma con poteri e funzioni fissati dal Parlamento
	B.	Sono enti autonomi con propri statuti, poteri e funzioni secondo i principi fissati dalla Costituzione
	C.	Non sono enti
11	Qual è la velocità consentita per circolare nei canali della città di Venezia	
	A.	La velocità massima consentita per navigare in tutti i canali è di 7 km/h
	B.	Nel Canal Grande e nel Canale di Cannaregio si può andare al massimo a 7 km/h, mentre in tutti i restanti canali il massimo consentito è di 5 km/h
	C.	La velocità massima consentita per navigare in tutti i canali è di 5 km/h
12	 Cosa indica questo segnale?	
	A.	Obbligo di seguire la direzione indicata
	B.	Direzione raccomandata
	C.	Canale a senso unico
13	Come si chiama la parte sommersa dello scafo?	
	A.	Opera viva
	B.	Opera morta
	C.	Giardinetto
14	Il Rio delle Torreselle può essere percorso da	
	A.	Qualsiasi barca
	B.	Solo barche con una larghezza massima di 2,40 metri
	C.	Solo barche a remi
15	L'imbarco di persone oltre il limite consentito	
	A.	È un illecito amministrativo punito con la sola ammenda
	B.	È un reato per il quale è previsto l'arresto o l'ammenda
	C.	Comporta la sospensione della patente





Concorso pubblico per esami per n. 2 posti di Motoscafista – categoria
15 marzo 2023

16	Quale tra i seguenti motori, ai fini della sicurezza da esplosioni o da incendi, è meno pericoloso?	
	A.	Motore diesel
	B.	Motore a benzina
	C.	Motore miscela olio - benzina
17	Come si chiama il perno fissato sulla parte prodiera del timone da infilare nella femminella sul dritto di poppa?	
	A.	Cubia
	B.	Agugliotto
	C.	Femminella
18	Che tipo di raffreddamento ha un motore fuoribordo?	
	A.	Ad aria
	B.	Ad acqua senza pompa
	C.	Ad acqua con pompa
19	Cos'è il fasciame di una imbarcazione?	
	A.	Involucro interno dello scafo
	B.	Rinforzo delle zone estreme prodiera e poppiera
	C.	Involucro esterno impermeabile dello scafo
20	Una nave che emette un segnale breve vuole comunicare	
	A.	Che sta accostando a dritta
	B.	Che sta accostando a sinistra
	C.	Se sta effettuando un sorpasso
21	Quali tra le seguenti affermazioni è vera?	
	A.	Il comandante è l'unico responsabile per la sicurezza dell'imbarcazione e delle persone a bordo
	B.	Ogni membro dell'equipaggio è corresponsabile della sicurezza dell'imbarcazione e delle persone a bordo
	C.	Il comandante è l'unico responsabile della sicurezza dell'imbarcazione ma ogni membro dell'equipaggio è corresponsabile della sicurezza delle persone a bordo
22	Occorre la patente nautica per comandare un'imbarcazione da diporto in navigazione entro 6 miglia dalla costa?	
	A.	No
	B.	Sì, sempre
	C.	Si se la potenza del motore supera i 40,8 cavalli o la cilindrata supera determinati parametri
23	Per quale motivo può essere sospesa la patente nautica?	
	A.	Per assunzione del comando in stato di ubriachezza
	B.	Per mancanza a bordo delle dotazioni di sicurezza
	C.	A seguito di un sinistro marittimo sul quale sia stata aperta un'inchiesta da parte dell'Autorità Marittima



Concorso pubblico per esami per n. 2 posti di Motoscafista – categoria B3
15 marzo 2023

24	Non avere a bordo le dotazioni di sicurezza previste	
	A.	È un illecito amministrativo punito con la sola ammenda
	B.	È un reato per il quale è previsto l'arresto o l'ammenda
	C.	Comporta la sospensione della patente
25	Qual è il limite di validità temporale delle patenti nautiche?	
	A.	10 anni se non si è superato il 60° anno di età, 5 anni se si è superato tale limite di età
	B.	10 anni se non si è superato il 50° anno di età, 5 anni se si è superato tale limite di età
	C.	10 anni per tutti
26	Secondo il regolamento di sicurezza quali sono i mezzi individuali di salvataggio?	
	A.	Zattere di salvataggio
	B.	Cintura di salvataggio per ogni persona imbarcata
	C.	Un salvagente munito di una cima lunga 30 metri con boetta luminosa sistemato in luogo di facile accesso
27	 Cosa indica questo segnale posto all'ingresso di un canale	
	A.	Divieto per le unità a motore specifiche con pannello integrativo
	B.	Vietato navigare creando moto ondoso
	C.	Canale navigabile solo a remi
28	Un'unità a propulsione meccanica in navigazione deve lasciare libera la rotta ad una unità che non governa?	
	A.	Sì, sempre
	B.	No, in nessun caso
	C.	Solo se l'unità che non governa si trova a dritta
29	I natanti non iscritti hanno l'obbligo di esporre la bandiera nazionale?	
	A.	Solo in acque territoriali
	B.	Sì
	C.	No
30	 Cosa indica questo segnale posto all'inizio di un canale?	
	A.	Vietato effettuare evoluzioni con bracci meccanici
	B.	Vietato lo scambio sulle rive tra imbarcazioni
	C.	Divieto di evoluzione