






Concorso pubblico per esami per n. 2 posti di Motoscafista, categoria B3
15 marzo 2023

1	Il Codice di comportamento dei dipendenti pubblici individua la figura del:	
	A.	Supporto fiduciario
	B.	Consigliere/a finanziario
	C.	Consigliere/a di fiducia
2	Cosa determina la forma di governo e i principi fondamentali di organizzazione e funzionamento di una Regione?	
	A.	Lo statuto regionale
	B.	L'intesa della Conferenza Stato Regioni
	C.	Il Decreto del Presidente della Repubblica
3	La Regione:	
	A.	È un ente pubblico economico
	B.	È un ente strumentale
	C.	È un ente pubblico territoriale
4	Quanti anni dura in carica il Presidente del Consiglio regionale	
	A.	3
	B.	4
	C.	5
5	Le sedute della Giunta regionale:	
	A.	Sono sempre pubbliche
	B.	Non sono pubbliche, salva diversa decisione della Giunta stessa
	C.	Sono pubbliche solo nel caso in cui non partecipi il Presidente della Giunta regionale
6	Chi può revocare i componenti della Giunta regionale?	
	A.	Il Consiglio regionale
	B.	Il Presidente del Consiglio regionale
	C.	Il Presidente della Giunta regionale
7	Quale delle seguenti affermazioni NON è corretta? Il Presidente della Giunta regionale del Veneto:	
	A.	Cura le relazioni istituzionali del Consiglio
	B.	È un organo della Regione
	C.	Nomina i componenti della Giunta regionale



Concorso pubblico per esami per n. 2 posti di Motoscafista, categoria B3
15 marzo 2023

8	La Giunta regionale:	
	A.	È l'organo esecutivo della Regione
	B.	Non è l'organo esecutivo della Regione
	C.	È l'organo monocratico della Regione
9	Il Presidente della Giunta regionale del Veneto:	
	A.	È nominato dalla Giunta regionale tra i suoi componenti
	B.	È eletto dal Consiglio regionale tra i suoi componenti
	C.	È eletto a suffragio universale e diretto
10	La Giunta regionale:	
	A.	Elegge i consiglieri regionali previa delega da parte del Presidente del Consiglio regionale
	B.	Elegge i consiglieri regionali
	C.	Non elegge i consiglieri regionali
11	 Cosa indica questo segnale posto all'inizio di un canale?	
	A.	Sorpasso permesso solo a destra
	B.	Divieto di affiancamento nei canali con navigazione a sinistra
	C.	Indica senso unico di marcia
12	 Cosa indica questo segnale posto all'inizio di un canale	
	A.	Vietato effettuare evoluzioni con bracci meccanici
	B.	Vietato lo scambio sulle rive tra imbarcazioni
	C.	Divieto di evoluzione
13	 Cosa indica questo segnale?	
	A.	Obbligo di seguire la direzione indicata
	B.	Direzione raccomandata
	C.	Canale a senso unico
14	Qual è la velocità consentita per circolare nei canali della città di Venezia	
	A.	La velocità massima consentita per navigare in tutti i canali è di 7 km/h
	B.	Nel Canal Grande e nel Canale di Cannaregio si può andare al massimo a 7 km/h, mentre in tutti i restanti canali il massimo consentito è di 5 km/h
	C.	La velocità massima consentita per navigare in tutti i canali è di 5 km/h



Concorso pubblico per esami per n. 2 posti di Motoscafista, categoria B3
15 marzo 2023

15	Qual è l'effetto evolutivo di un'elica destrorsa in rotazione indietro?	
	A.	Far ruotare la poppa verso dritta, quindi la prora verso sinistra
	B.	Far ruotare sia la poppa che la prora verso dritta
	C.	Far ruotare la poppa verso sinistra, quindi la prora verso dritta
16	Qual è il nome del prolungamento della chiglia all'estremità poppiera dello scafo?	
	A.	Specchio di poppa
	B.	Dritto di poppa
	C.	Losca
17	Come si chiama la struttura portante e di collegamento tra i vari organi di un motore endotermico?	
	A.	Monoblocco
	B.	Testata
	C.	Basamento
18	La navigazione oltre i limiti consentiti	
	A.	È un illecito amministrativo punito con la sola ammenda
	B.	È un reato per il quale è previsto l'arresto o l'ammenda
	C.	Comporta la sospensione della patente
19	Com'è denominata la parte emersa dell'imbarcazione?	
	A.	Opera viva
	B.	Opera morta
	C.	Mascone
20	La navigazione nel rio di San Vio	
	A.	È consentita a doppio senso di marcia
	B.	È un rio blu
	C.	È consentita a senso unico di marcia nella direzione dal Canal Grande al Canale della Giudecca
21	A cosa serve il timone compensato?	
	A.	Ad allontanare dall'asse di rotazione il punto di applicazione della risultante della pressione esercitata dall'acqua sulle pale
	B.	Ad avere un timone più robusto
	C.	A ridurre la resistenza della pala alla rotazione
22	L'espressione "suono breve" designa un suono della durata	
	A.	Di circa 5 secondi
	B.	Di circa 1 secondo
	C.	Di circa 3 secondi



Concorso pubblico per esami per n. 2 posti di Motoscafista, categoria B3
15 marzo 2023

23	Quando si è in presenza di rotta di collisione	
	A.	Quando, in caso di rotte convergenti, il rilevamento diminuisce
	B.	Quando, in caso di rotte convergenti, il rilevamento aumenta
	C.	Quando, in caso di rotte convergenti, il rilevamento rimane costante e la distanza diminuisce
24	Come si chiama il movimento di oscillazione attorno all'asse longitudinale dello scafo?	
	A.	Rollio
	B.	Beccheggio
	C.	Appoppata
25	Qual è la causa più comune per cui un motore entrobordo si surriscalda	
	A.	La presa a mare della pompa dell'acqua si è occlusa
	B.	Si è rotta la pompa di iniezione
	C.	Il filtro dell'olio si è sporcato
26	Come si chiama il pavimento dell'imbarcazione?	
	A.	Serretta
	B.	Pagliolato
	C.	Mura
27	Con che cosa si rabbocca il livello nello scambiatore del circuito di raffreddamento indiretto in un motore entrobordo	
	A.	Con acqua di mare
	B.	Con olio
	C.	Con acqua dolce
28	Com'è chiamata la linea che separa l'opera viva dall'opera morta?	
	A.	Linea di insellatura
	B.	Linea di galleggiamento
	C.	Linea di bordo libero
29	Su un'unità propulsa da un motore entrobordo a benzina, la prima operazione da compiere prima di accendere il motore è:	
	A.	Verificare che le candele siano ben inserite
	B.	Arieggiare il gavone dove è alloggiato il motore
	C.	Aprire i rubinetti del circuito di raffreddamento a ciclo chiuso
30	Quando un'elica si definisce destrorsa?	
	A.	Quando le pale girano in senso antiorario in marcia avanti
	B.	Quando le pale girano in senso orario in marcia avanti
	C.	Quando le pale girano in senso orario in marcia indietro