




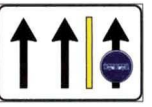
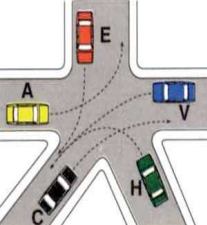




Concorso pubblico per esami per n. 5 posti di Autista – categoria B3  
15 marzo 2023  
**PROVA N. 3**

	<p><b>1) I pannelli in figura:</b></p> <p>A. Si possono trovare solo se il passaggio a livello è custodito</p> <p><b>B. Sono posti prima di qualsiasi tipo di passaggio a livello</b></p> <p>C. Sono segnali di indicazione</p>
	<p><b>2) Il segnale in figura:</b></p> <p>A. Indica il limite di velocità per tutti i veicoli</p> <p><b>B. Indica la fine di una prescrizione</b></p> <p>C. Vieta il transito ai veicoli che superano la velocità di 50 Km/h</p>
	<p><b>3) Il segnale in figura:</b></p> <p><b>A. Indica la presenza di un cavalcavia per l'inversione di marcia</b></p> <p>B. È un segnale autostradale</p> <p>C. Indica un sottopassaggio che vieta di invertire il senso di marcia</p>
	<p><b>4) Il segnale in figura:</b></p> <p><b>A. Indica il restringimento della carreggiata</b></p> <p>B. Preavvisa l'obbligo di svoltare a sinistra</p> <p>C. Presegnala una corsia di decelerazione</p>
	<p><b>5) Il segnale in figura:</b></p> <p><b>A. Riporta il numero della classificazione internazionale della strada</b></p> <p>B. Indica che mancano 55Km al confine di stato con l'estero</p> <p>C. È posto sulle strade urbane</p>
	<p><b>6) Il segnale in figura:</b></p> <p>A. Delimita con la striscia gialla una pista ciclabile</p> <p>B. Se di colore verde, è installato lungo un'autostrada</p> <p><b>C. Indica che le corsie di sinistra sono destinate al traffico normale</b></p>
	<p><b>7) Nell'incrocio raffigurato:</b></p> <p>A. I veicoli disimpegnano l'incrocio nel seguente ordine: A, H, C, E, V</p> <p>B. I veicoli disimpegnano l'incrocio nel seguente ordine: A, E, C, V, H</p> <p><b>C. Il veicolo E può passare prima del veicolo H</b></p>



Concorso pubblico per esami per n. 5 posti di Autista – categoria B3

15 marzo 2023

## PROVA N. 3

	<p><b>8) Nell'incrocio raffigurato:</b></p> <p>A. Il veicolo B passa per primo</p> <p>B. I veicoli transitano nel seguente ordine: T, B, S</p> <p>C. Il veicolo B passa per ultimo</p>
	<p><b>9) I pannelli a strisce oblique gialle e rosse raffigurati:</b></p> <p>A. Delimitano l'ingombro laterale degli autocarri</p> <p>B. Sono retroriflettenti e fluorescenti, per migliorare la visibilità notturna del veicolo</p> <p>C. Sono obbligatori per tutti i veicoli per trasporto di cose che superino a pieno carico 3,5 t</p>
	<p><b>10) Il simbolo rappresentato nella figura:</b></p> <p>A. Con spia accesa durante la marcia, indica che il generatore non carica la batteria</p> <p>B. Se la spia è accesa indica che la batteria è carica</p> <p>C. Se la spia rimane accesa durante la marcia indica di sostituire subito i fusibili della batteria</p>
<p><b>11) Cos'è una zona a traffico limitato?</b></p>	
<p>A. Un'area in cui accesso e circolazione veicolare sono limitati ad ore prestabilite o a particolari categorie di utenti o di veicoli</p>	
<p>B. Una parte di una piazza destinata prevalentemente al parcheggio</p>	
<p>C. Una parte della strada riservata a mezzi pubblici e di emergenza</p>	
<p><b>12) Il triangolo mobile di pericolo deve essere <u>obbligatoriamente</u> usato per segnalare il veicolo che debba restare fermo</b></p>	
<p>A. In caso di forte pioggia</p>	
<p>B. Per chiedere soccorso agli automobilisti in transito</p>	
<p>C. Solo su carreggiate extraurbane</p>	
<p><b>13) Qual è il tasso alcolemico che non deve essere superato dai conducenti che esercitano l'attività professionale di trasporto di persone?</b></p>	
<p>A. Dipende dal tipo di veicolo e dal tipo di trasporto, di persone e di cose</p>	
<p>B. 0 (zero) grammi per litro di sangue</p>	
<p>C. 1,6 grammi per litro di sangue, pari a 1 litro di birra bevuto a stomaco pieno</p>	



Concorso pubblico per esami per n. 5 posti di Autista – categoria B3  
15 marzo 2023  
**PROVA N. 3**

<b>14) Un abbassamento della pressione dell'olio lubrificante:</b>
A. Può essere dovuto ad un guasto alla valvola limitatrice della pressione
B. Può provocare un innalzamento della temperatura del liquido di raffreddamento
C. Non provoca alcun danno al motore
<b>15) Gli pneumatici dei veicoli con battistrada eccessivamente usurato:</b>
A. Non condizionano la distanza di sicurezza
B. Aumentano la probabilità di incidenti stradali
C. Influiscono sulla stabilità del veicolo solo in curva
<b>16) La pressione di gonfiaggio dello pneumatico va controllata:</b>
A. A caldo
B. Indifferentemente a caldo o a freddo in quanto non varia con la temperatura
C. A freddo
<b>17) L'aquaplaning:</b>
A. Non può verificarsi se il veicolo è dotato di ABS
B. Non si verifica se gli pneumatici sono gonfiati alla pressione indicata dal costruttore
C. Consiste in una perdita di aderenza legata alla presenza di velo d'acqua compresa tra battistrada e pavimentazione stradale
<b>18) Per la sostituzione di una ruota:</b>
A. Il martinetto può essere posizionato in qualunque parte del veicolo
B. Occorre, se possibile, fermarsi lungo un tratto rettilineo e in piano, segnalando, nei casi previsti, la sosta con l'apposito segnale mobile di pericolo
C. Bisogna posizionare il cambio in folle prima di sollevare il veicolo
<b>19) Per garantire la sicurezza della circolazione ed evitare incidenti, è necessario, fra l'altro:</b>
A. Diminuire la pressione degli pneumatici perché se ne migliora il raffreddamento
B. Osservare se lo pneumatico si consuma soprattutto al centro, perché la pressione è troppo bassa
C. Utilizzare pneumatici delle dimensioni previste dalla casa costruttrice
<b>20) La sostituzione di un fusibile</b>
A. Deve essere effettuato da personale specializzato se di colore rosso
B. Può essere sostituito, <u>in caso di necessità</u> , con uno di amperaggio maggiore
C. Può essere sostituito, <u>in caso di necessità</u> , con uno di amperaggio minore



Concorso pubblico per esami per n. 5 posti di Autista – categoria B3  
15 marzo 2023  
**PROVA N. 3**

<b>21) Il Presidente della Giunta regionale del Veneto:</b>
A. È Presidente del Consiglio regionale
B. Non è componente del Consiglio regionale
<b>C. È componente del Consiglio regionale</b>
<b>22) Il Presidente del Consiglio regionale:</b>
A. Nomina il Presidente della Giunta regionale
<b>B. Cura le relazioni istituzionali del Consiglio</b>
C. Promulga le leggi approvate dal Consiglio regionale
<b>23) La Regione ha demanio e patrimonio propri?</b>
A. No
<b>B. Sì</b>
C. Solo le Regioni a statuto speciale
<b>24) Il Presidente della Giunta regionale del Veneto, in caso di assenza o di impedimento temporaneo:</b>
A. Non è sostituibile
<b>B. È sostituito dal Vice Presidente</b>
C. È sostituito dal Presidente del Consiglio regionale
<b>25) L'Ufficio di Presidenza del Consiglio regionale:</b>
A. È nominato dal Presidente del Consiglio regionale nella prima seduta della Giunta Regionale
B. È nominato dal Presidente della Giunta regionale nella prima riunione del Consiglio regionale
<b>C. È eletto dal Consiglio regionale nella prima riunione</b>
<b>26) Ai sensi della legge n. 190/2012 la trasparenza dell'attività amministrativa deve essere assicurata mediante:</b>
<b>A. La pubblicazione delle informazioni previste nei siti web istituzionali delle Pubbliche amministrazioni</b>
B. La comunicazione delle informazioni previste tramite le caselle di posta certificata attribuite ai cittadini
C. L'accesso libero dei cittadini agli uffici delle Pubbliche amministrazioni, eventualmente regolamentato per ragioni di ordine e sicurezza
<b>27) Non è elemento costitutivo della Regione:</b>
<b>A. Lo Statuto</b>
B. Il territorio
C. La popolazione



Concorso pubblico per esami per n. 5 posti di Autista – categoria B3

15 marzo 2023

**PROVA N. 3**

<b>28) Le Regioni sono state istituite nel:</b>	
A.	1948
B.	1977
<b>C.</b>	<b>1970</b>
<b>29) Le Regioni:</b>	
A.	Non hanno autonomia finanziaria di entrata e di spesa
<b>B.</b>	<b>Hanno autonomia finanziaria di entrata e di spesa</b>
C.	Hanno autonomia finanziaria di entrata e di spesa solo se autorizzate dallo Stato
<b>30) Il peculato è il reato in base al quale:</b>	
A.	Il pubblico ufficiale o l'incaricato di un pubblico servizio che, abusando della sua qualità o dei suoi poteri, costringe taluno a dare o a promettere indebitamente, a lui o a un terzo, denaro o altra utilità
<b>B.</b>	<b>Il pubblico ufficiale o l'incaricato di pubblico servizio, che, avendo per ragione del suo ufficio o servizio il possesso o comunque la disponibilità di denaro o di altra cosa mobile altrui, se ne appropria</b>
C.	Il pubblico ufficiale che, per l'esercizio delle sue funzioni o dei suoi poteri, indebitamente riceve, per sé o per un terzo, denaro o altra utilità o ne accetta la promessa